

**Exercice I.** Calculer le volume de la boule  $B$  de centre 0 et de rayon  $R$  dans  $\mathbf{R}^3$ . On demande ici les détails de calcul.

On utilise des coordonnées sphériques.

$$x = r \sin \phi \cos \theta$$

$$y = r \sin \phi \sin \theta$$

$$z = r \cos \phi$$

Le déterminant Jacobien peut être calculé facilement et sera

$$r^2 \sin \phi.$$

Le volume de la sphère devient

$$\int_0^{2\pi} \int_0^\pi \int_0^R r^2 \sin \phi \, d\phi \, d\theta \, dr = \frac{4}{3}\pi R^3.$$

**Exercice II.**

1. Trouver  $f$  tel que  $\mathbf{V} = \nabla f$  pour

$$\mathbf{V} = \left( \frac{x}{x^2 + y^2}, \frac{y}{x^2 + y^2} \right).$$

On doit avoir

$$\frac{\partial f}{\partial x} = \frac{x}{x^2 + y^2}$$

et

$$\frac{\partial f}{\partial y} = \frac{y}{x^2 + y^2}.$$

De la première équation on obtient

$$f(x, y) = \frac{1}{2} \log(x^2 + y^2) + c(y)$$

ou  $c(y)$  est une fonction de  $y$ . De la seconde équation on obtient alors que

$$\frac{\partial f}{\partial y} = \frac{y}{x^2 + y^2} + c'(y).$$

On peut alors prendre  $c(y) = 0$ .

2. Calculer l'intégrale curviligne  $\int_{\Gamma} \mathbf{V} \cdot d\mathbf{M}$  le long du segment qui va du point  $(1, 0)$  au point  $(0, 4)$ .

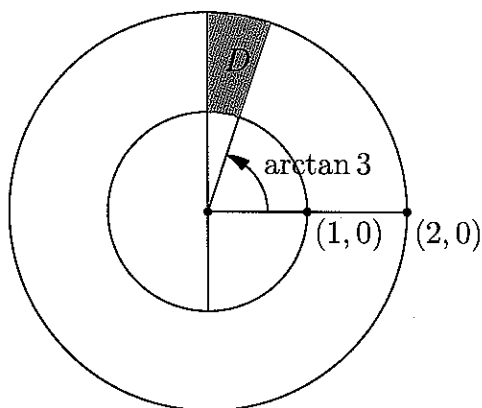
On a

$$\int_{\Gamma} \mathbf{V} \cdot d\mathbf{M} = f(0, 4) - f(1, 0) = \log 16 - \log 1 = \log 16$$

Exercice III. On considère l'ensemble défini par

$$D = \{ (x, y) \mid 1 \leq x^2 + y^2 \leq 4, x \geq 0, y \geq 3x \}$$

1. Tracer un dessin de  $D$ .



2. Calculer

$$\iint_D \frac{1}{y^2} dx dy.$$

L'intégrale sur le domaine  $D$  est donnée, en coordonnées polaires  $x = r \cos \theta, y = r \sin \theta$ , par

$$\begin{aligned} & \int_1^2 \int_{\arctan 3}^{\pi/2} \frac{1}{(r \sin \theta)^2} r d\theta dr \\ &= \int_1^2 \frac{1}{r} \left( -\frac{\cos \theta}{\sin \theta} \right)_{\arctan 3}^{\pi/2} dr = \int_1^2 \frac{1}{r} \frac{1}{\tan(\arctan 3)} dr = \int_1^2 \frac{1}{r} \frac{1}{3} dr = \frac{1}{3} \log 2 \end{aligned}$$

2. Calculer le volume de l'ensemble

$$V = \left\{ (x, y, z) \mid (x, y) \in D, 0 \leq z \leq \frac{1}{y^2} \right\}.$$

L'intégrale sur le domaine  $V$  est donnée, par Fubini, par la formule

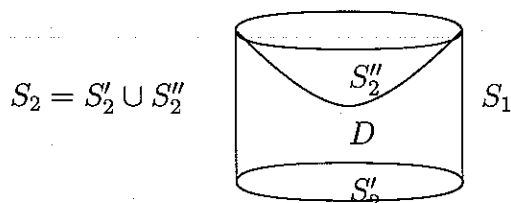
$$\iiint_D \int_0^{\frac{1}{y^2}} dz dx dy = \iint_D \frac{1}{y^2} dx dy = \frac{1}{3} \log 2.$$

**Exercice IV.** Soit  $D$  le domaine de  $\mathbf{R}^3$  limité par le cylindre d'équation

$$x^2 + y^2 = 1$$

le plan  $z = 0$  et la surface  $z = x^2 + y^2 + 1$ .

1. Soit  $S$  le bord de  $D$ . Faire un dessin de  $S$  et de  $D$ .



2. Calculer le volume de  $D$ .

Comme, pour chaque  $(x, y)$  dans le disque de rayon 1,  $0 \leq z \leq x^2 + y^2 + 1$ , il est utile d'utiliser des coordonnées cylindriques. Alors  $0 \leq z \leq r^2 + 1$  et le volume s'écrit

$$\iiint_D dx dy dz = \int_0^{2\pi} \int_0^1 \int_0^{r^2+1} dz r dr d\theta = \int_0^{2\pi} \int_0^1 (r^2 + 1)r dr d\theta = 2\pi \left( \frac{r^4}{4} + \frac{r^2}{2} \right)_0^1 = \frac{3\pi}{2}.$$

Notons  $S$  le bord de  $D$  orienté suivant le vecteur normal extérieur. Notons  $S_1$  la partie de  $S$  contenue dans le cylindre. et  $S_2 = S \setminus S_1$  (le complémentaire de  $S_1$  dans  $S$ ). Soit  $\vec{V}$  le champ de vecteurs de composantes  $(P, Q, R) = (x, y, z^2)$ .

3. Calculer le flux de  $\vec{V}$  à travers  $S_1$ .

La surface  $S_1$  est un cylindre de hauteur 2 sur un cercle de rayon 1. Le vecteur normal à la surface  $S_1$  est  $\mathbf{n} = \frac{1}{\sqrt{x^2+y^2}}(x, y, 0)$ . Le flux est alors

$$\iint_{S_1} \vec{V} \cdot \mathbf{n} d\sigma = \iint_{S_1} \sqrt{x^2 + y^2} d\sigma = \iint_{S_1} d\sigma = \int_0^2 \int_0^{2\pi} d\sigma = 4\pi.$$

4. Calculer le flux de  $\vec{V}$  à travers  $S$  en utilisant la formule d'Ostrogradsky. Par la formule d'Ostrogradsky

$$\iint_S \vec{V} \cdot \mathbf{n} d\sigma = \iiint_D \operatorname{div} \vec{V} dx dy dz$$

$$= \iiint_D (2 + 2z) \, dx \, dy \, dz = \iint_{\Delta} \int_0^{x^2+y^2+1} 2(1+z) \, dz \, dx \, dy$$

ou  $\Delta = \{(x, y), 0 \leq x^2 + y^2 \leq 1\}$  est le disque de rayon 1 centré à l'origine. On obtien que le flux est

$$\iint_{\Delta} ((1+z)^2)_0^{x^2+y^2+1} \, dx \, dy = \iint_{\Delta} ((2+x^2+y^2)^2 - 1) \, dx \, dy$$

qui en coordonnées polaires est

$$= \int_0^{2\pi} \int_0^1 ((2+r^2)^2 - 1)r \, dr \, d\theta = 2\pi \int_0^1 (3r + 4r^3 + r^5) \, dr = 2\pi \left( \frac{3}{2} + 1 + \frac{1}{6} \right) = \frac{16\pi}{3}.$$

5. Calculer le flux de  $\vec{V}$  à travers  $S_2$ .

Le flux est

$$\iint_{S_2} \vec{V} \cdot \mathbf{n} \, d\sigma = \iint_S \vec{V} \cdot \mathbf{n} \, d\sigma - \iint_{S_1} \vec{V} \cdot \mathbf{n} \, d\sigma = \frac{16\pi}{3} - 4\pi = \frac{4\pi}{3}.$$

6. Calculer l'aire de  $S_1$  et de  $S_2$ .

Comme  $S_1$  est un cylindre de rayon 1 et hauteur 2 on a  $Aire(S_1) = 4\pi$ .

On observe que  $S_2$  est l'union d'un disque de rayon 1  $S'_2$  en dessous de  $D$ , et d'une surface  $S''_2$  au dessus de  $D$ . Pour calculer  $Aire(S''_2) = \iint_{S''_2} d\sigma$ , on utilise la formule

$$\iint_{S''_2} d\sigma = \iint_{\Delta} \sqrt{\left(\frac{\partial z}{\partial x}\right)^2 + \left(\frac{\partial z}{\partial y}\right)^2 + 1} \, dx \, dy = \iint_{\Delta} \sqrt{4x^2 + 4y^2 + 1} \, dx \, dy.$$

On obtient en coordonnées polaires

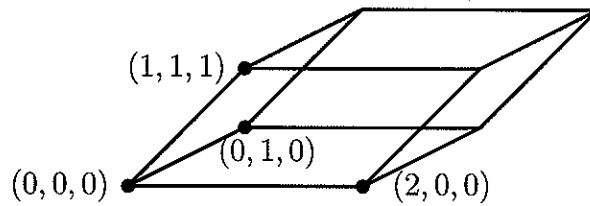
$$= \int_0^{2\pi} \int_0^1 \sqrt{4r^2 + 1} \, r \, dr \, d\theta = 2\pi \left( \frac{(4r^2 + 1)^{3/2}}{12} \right)_0^1 = 2\pi \left( \frac{5^{3/2} - 1}{12} \right).$$

On conclut que

$$Aire(S_2) = Aire(S'_2) + Aire(S''_2) = \pi + 4\pi = 5\pi.$$

7. Calculer la circulation de  $\vec{V}$  le long des courbes qui sont les bords de  $S_1$ , orientées dans le sens trigonométrique par rapport à l'orientation de  $S_1$  (dont le vecteur normal est vers l'extérieur).

Le champ est orthogonal aux courbes. On obtien alors que la circulation est nulle.



**Exercice V.** Soit  $D$  le parallélépipède défini par les vecteurs

$$(2, 0, 0), (0, 1, 0), (1, 1, 1).$$

1. Dessiner le domaine  $D$ .
2. Calculer l'intégrale

$$\iint_S x^2 dy \wedge dz + xz dz \wedge dx + xz dx \wedge dy$$

sur la surface  $S$  définie comme bord de  $D$ . On considère la surface orientée avec la normale vers l'extérieur de la surface.

On utilise le théorème de Stokes (formule de Ostrogradsky).

$$\iint_S x^2 dy \wedge dz + xz dz \wedge dx + xz dx \wedge dy = \iiint_D 2x dx \wedge dy \wedge dz + x dx \wedge dy \wedge dz = \iiint_D 3x dx dy dz$$

On paramétrise le parallélépipède par le paramètres  $0 \leq a \leq 1$ ,  $0 \leq b \leq 1$  et  $0 \leq c \leq 1$ :

$$(a, b, c) \rightarrow a(2, 0, 0) + b(0, 1, 0) + c(1, 1, 1) = (2a + c, b + c, c).$$

Le déterminant Jacobien de cette transformation est

$$\det((2, 0, 0), (0, 1, 0), (1, 1, 1)) = 2.$$

On obtient alors

$$\begin{aligned} \int_0^1 \int_0^1 \int_0^1 3(2a + c) 2dadbdcc &= 6 \int_0^1 \int_0^1 (2a + c) dcda = 6 \int_0^1 \left( 2ac + \frac{c^2}{2} \right)_0^1 da \\ &= 6 \int_0^1 \left( 2a + \frac{1}{2} \right) da = 9. \end{aligned}$$

